

NOME: _____

DATA: _____

5ª ano _____

Questão 1

Ao fazer um pudim, minha mãe usou, entre outros, os seguintes ingredientes:

1 lata de leite condensado de 394g.
1 caixinha de creme de leite de 194g.
1 envelope de gelatina em pó sem sabor de 12g.

Quantos gramas de ingredientes foram usados na produção do pudim?

- A) 0,6 g.
- B) 6,0 g.
- C) 60 g.
- D) 600 g.

Questão 2

A professora pediu para Ana ir ao quadro e resolver a seguinte multiplicação:

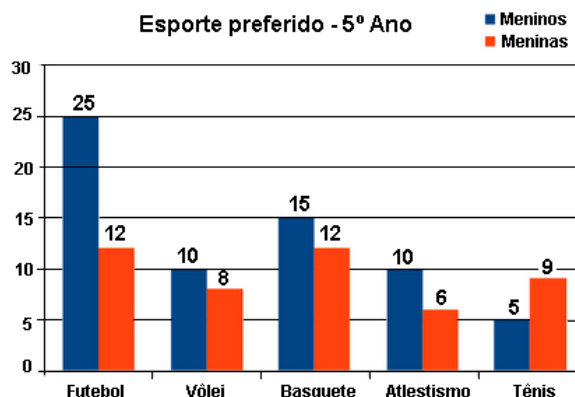
$$\begin{array}{r} 213 \\ \times 52 \\ \hline \end{array}$$

O produto encontrado por Ana foi

- A) 1 491.
- B) 10 176.
- C) 11 006.
- D) 11 076.

Questão 3

Observe o gráfico a seguir que representa o resultado de uma pesquisa sobre o esporte preferido dos alunos do 5º ano.




O esporte menos votado pelas meninas foi

- A) vôlei.
- B) basquete.
- C) atletismo.
- D) tênis.

Questão 4

A reta numérica a seguir mostra os países sedes da Copa do Mundo no período de 1998 a 2022.



O Catar sediará a Copa do Mundo em

- A) 2006
- B) 2010
- C) 2018
- D) 2022

Questão 5

A professora Abadia pesquisou no 5º ano o lanche preferido dos estudantes e representou os votos na tabela a seguir:

Lanche	Quantidade de votos
Pizza	14
Sanduíche	8
Salgado	15
Bolacha	7

O tipo de lanche mais votado foi

- A) a pizza.
- B) o sanduíche.
- C) o salgado.
- D) a bolacha.

Questão 6

Alessandra completou 18 meses de idade. O total de tempo desse período corresponde a

- A) 3 anos.
- B) 3 semestres.
- C) 3 trimestres.
- D) 3 bimestres.


Questão 7

Sabendo que o senhor Joaquim levou para vender na feira 482 pastéis e ao final do dia sobraram 46 unidades, quantos pastéis foram vendidos ao todo?

- A) 432
- B) 436
- C) 444
- D) 448

Questão 8

Observe o quadrilátero a seguir com seus respectivos ângulos.



Nele observamos

- A) somente ângulos retos.
- B) ângulo raso e agudo.
- C) ângulo obtuso e reto.
- D) somente ângulos rasos.

Questão 9

A professora Simone pediu aos alunos para decompor o número **7435**.

A decomposição correta deste número é

- A) $700 + 400 + 3 + 50$.
- B) $700 + 400 + 30 + 50$.
- C) $7\ 000 + 400 + 30 + 5$.
- D) $7\ 000 + 40 + 30 + 5$.

Questão 10

Observe o cilindro a seguir:



Planificando este cilindro encontramos

- A) somente um círculo e um retângulo.
- B) um círculo e dois retângulos.
- C) dois círculos e dois retângulos.
- D) dois círculos e um retângulo.