

2ª Feira - FEIRA

Festa Do brinquedo

Todos os alunos no mesmo link.


Das 16:30 h às 17:30 h 1º A - Link <https://meet.google.com/zje-fqid-ucd>

Das 15:00 h às 16 :00 h 1º B Link - <https://meet.google.com/gdv-gnmb-mmq>

NOME: _____

DATA: __/__/__

GRÁFICO: ALUNOS DO 1º ANO



NOME:

DATA: / /

COMPLETE A SEQUÊNCIA NUMÉRICA:

50	51								
60									
70									
80									
90									
100									




NOME:

DATA: / /

PROBLEMINHAS

NUMA FAZENDA HAVIA 8 VAQUINHAS E 3 BOIS. QUANTOS ANIMAIS A FAZENDA TINHA NO TOTAL?



O AQUÁRIO DE ALICE POSSUI 5 PEIXINHOS DOURADOS E 4 PEIXES PALHAÇO. QUANTOS PEIXES NO TOTAL ALICE TEM?



PEDRO TEM 7 CARRINHOS E FÁBIO TEM 6. JUNTOS ELES TEM QUANTOS CARRINHOS?



LARA COMPROU UMA BONECA DE 9 REAIS E UMA BOLA QUE CUSTOU 5 REAIS. QUANTO ELA GASTOU?



VAMOS RELEMBRAR UM POQUINHO O QUE SÃO OS OBJETIVOS DE DESENVOLVIMENTO SUSTENTÁVEL (ODS)
ASSISTAM O VÍDEO: [HTTPS://YOUTU.BE/ZSRHXP4-AEC](https://youtu.be/zsrhxp4-aec)

ATIVIDADES

NESTA ATIVIDADE IREMOS FALAR SOBRE

PARA ENTENDER MELHOR A ODS 2 ASSISTA O VÍDEO:
[HTTPS://WWW.YOUTUBE.COM/WATCH?V=TVS2CQYZSTQ](https://www.youtube.com/watch?v=TVS2CQYZSTQ)



AGRICULTURA FAMILIAR

VOCÊ SABE O QUE É AGRICULTURA FAMILIAR E QUAL A IMPORTÂNCIA DELA NO NOSSO DIA A DIA ?
HOJE EM DIA EXISTEM TANTAS OPÇÕES DE COMÉRCIOS ONDE PODEMOS COMPRAR VEGETAIS E FRUTAS. VAMOS APRENDER SOBRE A IMPORTÂNCIA DA AGRICULTURA FAMILIAR PARA A FORMAÇÃO DA NOSSA ALIMENTAÇÃO SAUDÁVEL.

ATIVIDADE 1

ASSISTA AO VÍDEO À SEGUIR PARA RESPONDER ÀS PRÓXIMAS PERGUNTAS:
COMIDA QUE ALIMENTA:

[HTTPS://WWW.YOUTUBE.COM/WATCH?V=Z6XAKNPV3QI](https://www.youtube.com/watch?v=Z6XAKNPV3QI)

- VIMOS NO VÍDEO QUE OS AGRICULTORES TRABALHAM NO CAMPO COM FERRAMENTAS ESPECÍFICAS PARA PLANTAR OS VEGETAIS. PARA APRENDER MAIS SOBRE ESSES OBJETOS IMPORTANTES FAÇA A CRUZADINHA DA QUESTÃO 1 DA PÁGINA 29 DO SEU LIVRO DIDÁTICO DE CIÊNCIAS:

- 1 TERMINE DE ESCREVER A CRUZADINHA DOS EQUIPAMENTOS USADOS POR JARDINEIROS E AGRICULTORES.



- AGORA DESENHE QUAIS OUTROS FATORES QUE SÃO IMPORTANTES PARA FAZER COM QUE OS VEGETAIS E FRUTAS QUE COMEMOS CRESCAM DE UMA FORMA SAUDÁVEL:

- COMO APRENDIDO NO VÍDEO A MERENDA QUE VOCÊ COME NA ESCOLA SÃO PRODUTOS DA AGRICULTURA FAMILIAR TAMBÉM! FAÇA UM DESENHO DA SUA COMIDA PREFERIDA QUE SERVE NA MERENDA DA

NOME:


DATA: / /

PROBLEMINHAS

RITA TINHA 10 LÁPIS, MAS PERDEU 3. QUANTOS RESTARAM?



SEU JOÃO LEVOU 9 BALÕES PARA VENDER NA PRAÇA. NO MEIO DO CAMINHO 2 ESTOURARAM. QUANTOS BALÕES SOBRARAM?



A TURMA DO 1º ANO TEM 15 MENINOS. MAS HOJE, 5 FALTARAM. QUANTOS MENINOS FORAM PARA A ESCOLA?



TIAGO COMPROU 6 BRIGADEIROS. ELE JÁ COMEU 4. QUANTOS BRIGADEIROS AINDA RESTAM?



NOME: _____

DATA: / /

OBSERVE OS PREÇOS DOS PRODUTOS DA LANCHONETE DA ESCOLA:

<p>SUCO</p>  <p>R\$ 4,00</p>	<p>REFRIGERANTE</p>  <p>R\$ 5,00</p>	<p>PICOLÉ</p>  <p>R\$ 2,00</p>
<p>PIPOCA</p>  <p>R\$ 1,00</p>	<p>SANDUÍCHE</p>  <p>R\$ 4,00</p>	<p>BOLO</p>  <p>R\$ 3,00</p>

1. QUAL O PRODUTO MAIS CARO? 2. QUAL O PRODUTO MAIS BARATO?

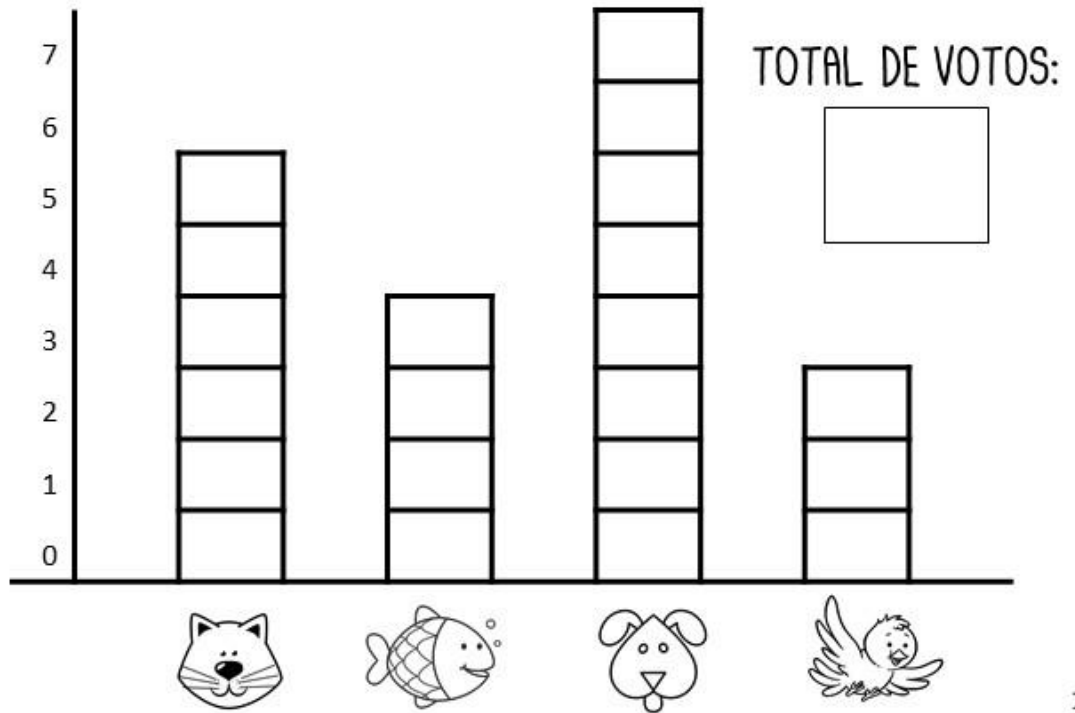
3. QUAIS O PRODUTOS CUSTAM O MESMO VALOR?

4. SE VOCÊ COMPRAR UM PICOLÉ E UMA FATIA DE BOLO,
QUANTO GASTARÁ?

NOME:

DATA: / /

ANIMAL DE ESTIMAÇÃO QUE O 1º ANO GOSTARIA DE TER



1. QUAL ANIMAL TEVE MAIS VOTOS?

2. QUAL ANIMAL TEVE MENOS VOTOS?

1. QUAL ANIMAL TEVE 6 VOTOS ?

2. QUANTOS VOTOS TEVE O PEIXE?

5. QUAL ANIMAL VOCÊ ESCOLHERIA?